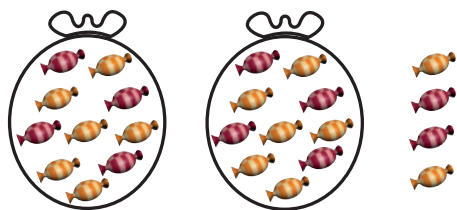


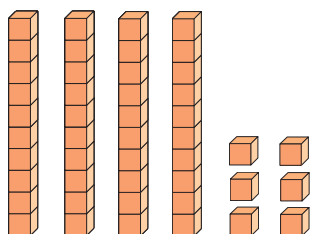
Unitat 1 Els nombres de dues xifres
Lectura i escriptura

1. Compta i escriu com en l'exemple:

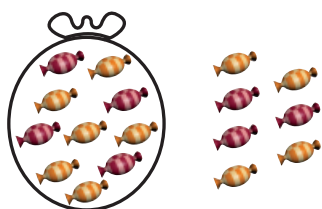


D	U
2	4


vint-i-quatre



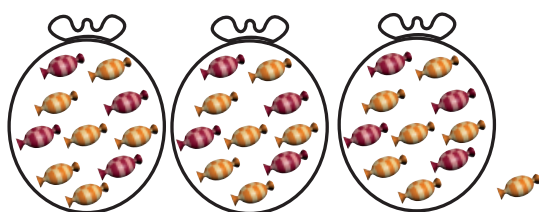
D	U



D	U

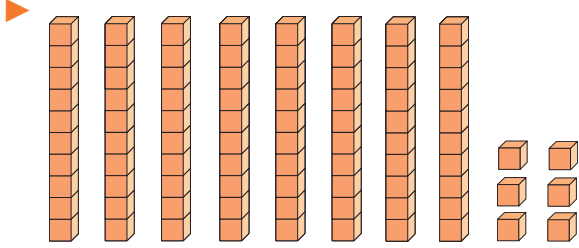


D	U

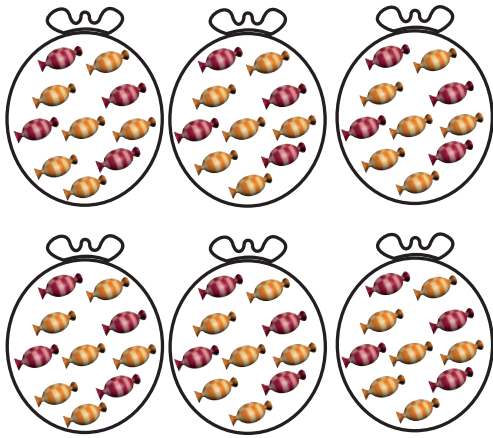


D	U

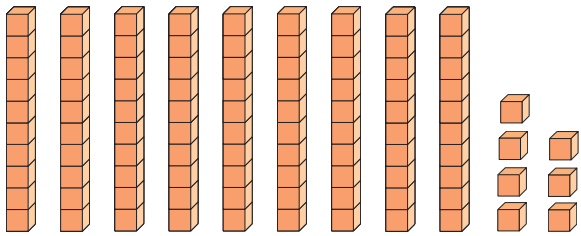
2 9 8 0 5 6 3 4 1 9 7



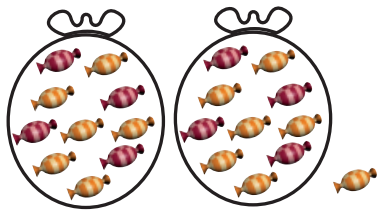
D | U



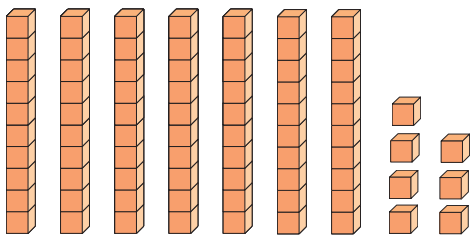
D | U



D | U



D | U



D | U

2. Completa la sèrie:

10	_____	30	_____	_____	_____	_____	80	_____
----	-------	----	-------	-------	-------	-------	----	-------

3. Completa els buits amb els signes $>$, $<$ o $=$ segons correspongui:

$36 < 63$

$24 \text{ ____ } 11$

$37 \text{ ____ } 65$

$28 \text{ ____ } 28$

$93 \text{ ____ } 97$

$45 \text{ ____ } 29$

$60 \text{ ____ } 70$

$89 \text{ ____ } 89$

$58 \text{ ____ } 38$

$63 \text{ ____ } 81$

$44 \text{ ____ } 32$

$22 \text{ ____ } 66$





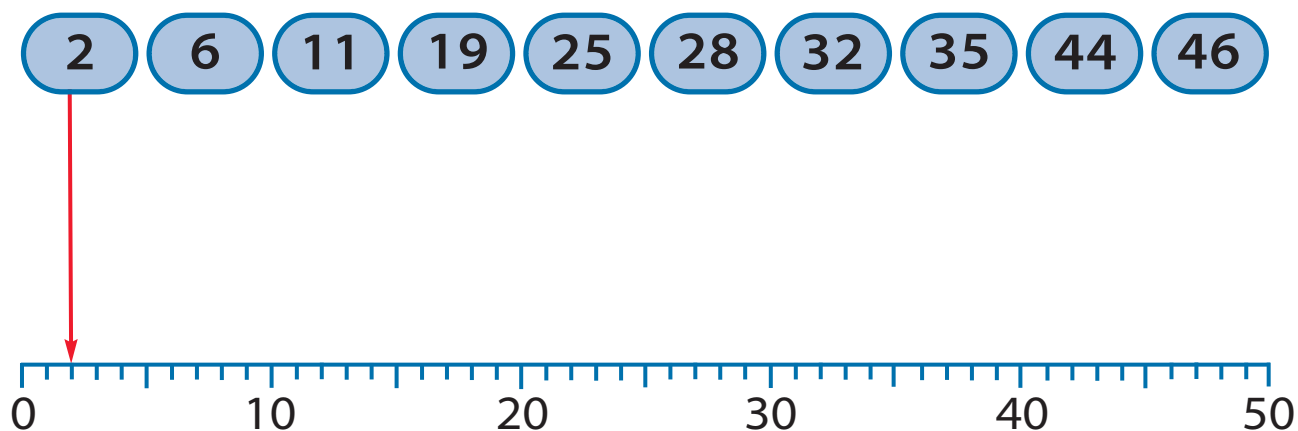
4. Fixa't en aquests nombres i escriu-ne el nombre anterior i el posterior:

___	46	___	___	29	___	___	81	___
___	76	___	___	60	___	___	58	___
___	32	___	___	39	___	___	66	___
___	48	___	___	98	___	___	31	___

5. Completa la taula amb els nombres que hi falten:

1	2	3	4	5	6	7	8	9	10
11	12	13	___	15	16	17	18	19	___
21	22	23	24	25	26	27	28	29	30
31	32	___	34	35	36	37	38	39	___
41	42	43	___	___	___	___	___	___	___
51	52	53	54	55	56	57	58	59	60
61	62	63	64	65	66	___	___	69	70
71	___	___	74	75	76	77	78	79	___
81	82	83	84	85	___	___	88	89	90
91	92	93	94	95	96	97	___	99	100

6. Indica el lloc de cada nombre en la recta numèrica:



7. Ordena aquests nombres del més petit al més gran:

19, 34, 46, 28, 61, 80, 54, 96, 14

14 < _____ < _____ < _____ < _____ < _____ < _____ < _____ < _____

2 9 8 0 5 6 3 4 1 9 7

8. Completa la graella:

setanta-quatre	74	7 D i 4 U
	98	
vint-i-nou		
		5 D i 0 U
seixanta-nou		
	17	
cinquanta-tres		
		4 D i 8 U
	36	
noranta-dos		
	80	

