

1


Ja som a Primària!



Hi ha pocs adornaments a la nostra classe!



Et proposem un REPTE!



T'animes a decorar la classe amb els nombres que aprendràs?

**Per superar el repte...
Investigo i aprenc**

0 1 2 3 4 5
NOMBRES FINS AL 5


DESCOMPOSICIÓ

$$1 + 3 = 4$$

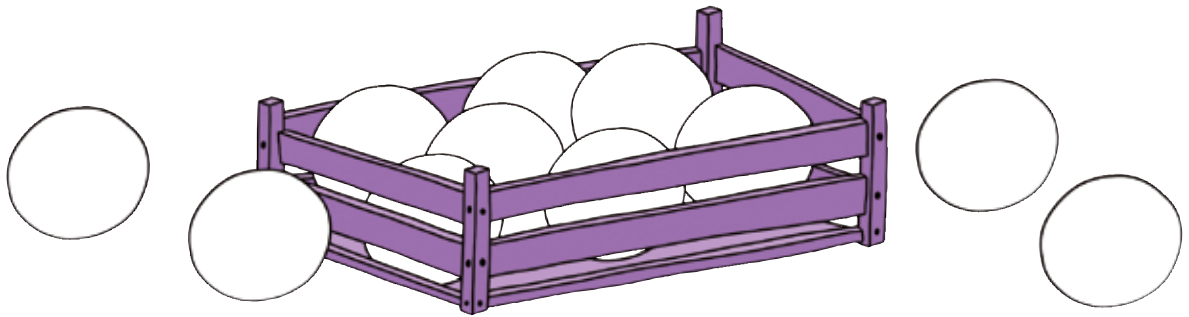
LA SUMA

Per demostrar que l'he superat... faig garlandes de nombres del 0 al 5

On és?




1 Pinta les pilotes que són fora de la caixa.




BARCANOVA EDITORIAL

2 En Leo porta la motxilla al davant. Encercla'l.




3 ✓ El tren s'ha parat! Explica per què utilitzant les paraules davant o darrere.

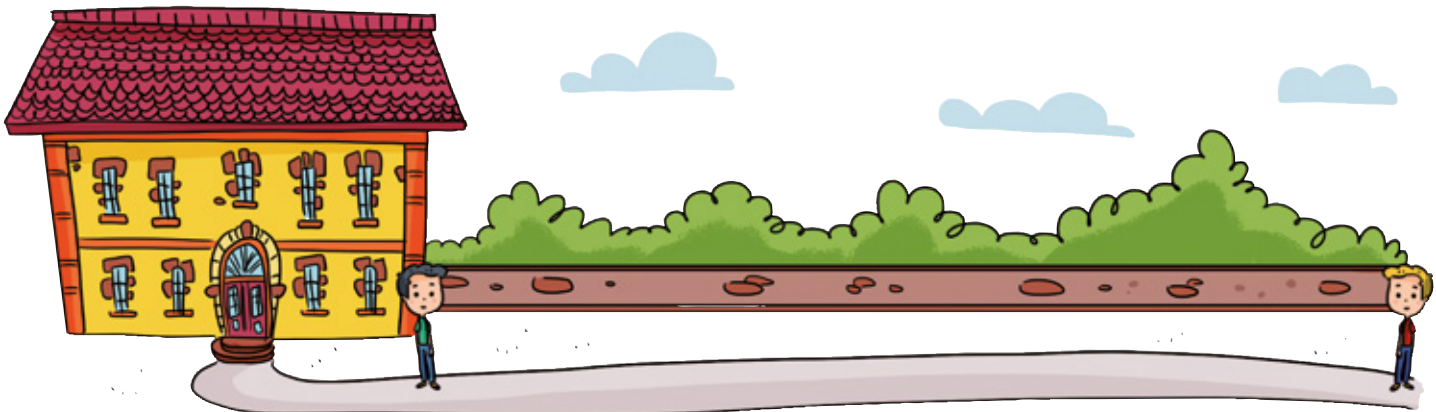




4 Qui és a baix? Pinta'l.



5 Encercla el nen que és més lluny de l'escola.



Els nombres 1, 2 i 3



u

dos

tres




1 Compta i encercla el nombre corresponent.

BARCANOVA
EDITORIAL



1 2 3



1 2 3



1 2 3



1 2 3



1 2 3




1 2 3

2 Pinta els requadres que indica cada nombre.

3

1

2



3 Escriu el nombre de titelles que hi ha en cada mà.



4 Quants llapis de cera hi ha? Si els moc, hi haurà els mateixos? Respon en veu alta.



5 Compta d'1 en 1 fins on tu vulguis.

1, 2, 3...



En equip, retallem i decorem tres banderoles per fer garlandes. Escrivim els nombres 1, 2 i 3, cada un en una banderola.



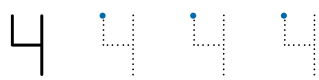
Els nombres 4, 5 i 0



quatre

cinc

zero



BARCANOVA EDITORIAL

1 Compta, dibuixa els punts i escriu el nombre.


• • •	3










2 Quants n'hi ha? Escriu els nombres.




Dictat de nombres




3 Dibuixa una lupa més en cada cas.
Després, escriu quantes n'hi ha de cada.

4  Explica el que saps sobre el 5.

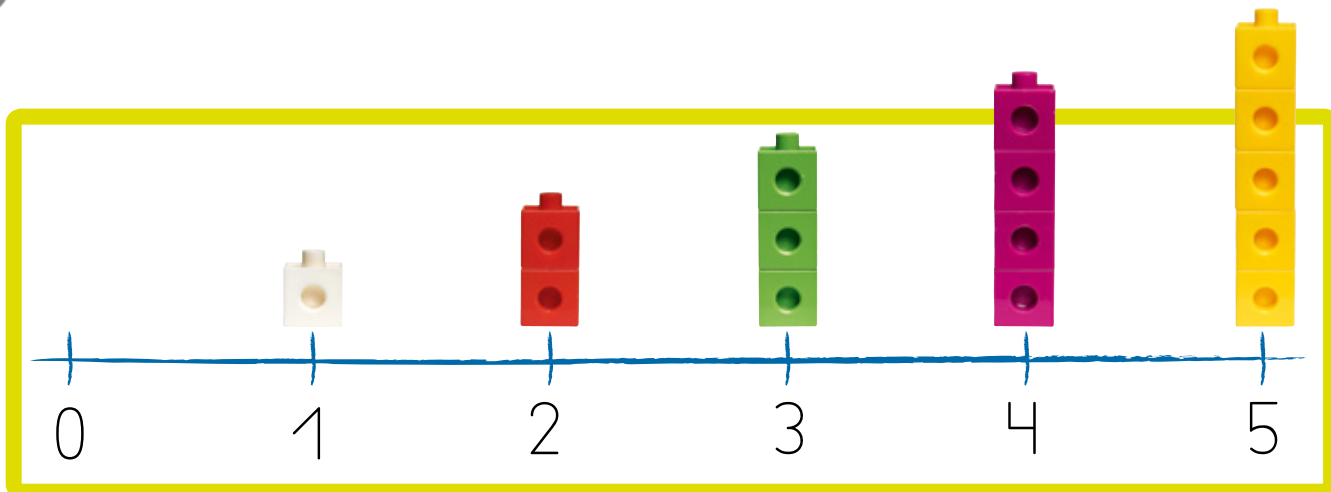


1 2 3 

Pas

Retallem i decorem tres banderoles més. Escrivim els nombres 4, 5 i 0, cada un en una banderola.

L'ordre dels nombres



1 Quin és el nombre següent? Escriu-lo.

0	1	
---	---	--

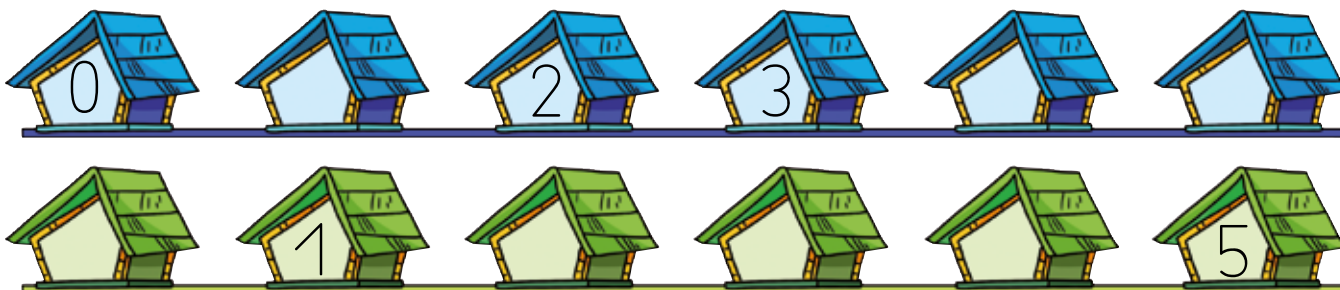
2	3	
---	---	--

3	4	
---	---	--

1	2	
---	---	--

BARCANOVA EDITORIAL

2 Completa.



3 Compta del 0 al 5 cap endavant i cap endarrere.



En equip, ordenem les banderoles del 0 al 5 en una corda.



La suma en horitzontal





En tinc 3.

N'hi afegeixo 2





En tinc 5.

3 + més 2 = igual a 5

1 Quants globus tinc? Suma'ls.









+ =
 + =

+ =
 + =

2 Dibuixa 2 espelmes en cada pastís. Quantes n'hi ha en total?

+ =
 + =
 + =

3 Què passa si n'hi afegeixes zero? Completa i explica-ho en veu alta.

3 + 0 =

La descomposició dels nombres

1 De quantes maneres puc repartir 3 fitxes en dos grups? Dibuixa-ho i escriu-ho.

$3 = 0 + 3$

$3 = 1 + 2$

$3 = \square + \square$

$3 = \square + \square$



BARCANOVA EDITORIAL

2 Completa.

$2 = 0 + 2$

$2 = \square + \square$


$2 = \square + \square$




$1 = \square + \square$

$1 = \square + \square$

3 Escriu totes les sumes possibles amb resultats 4 i 5.

El 4 

4 és 0 i 4
4 és 1 i 3
4 és 2 i 2
4 és 3 i 1
4 és 4 i 0

El 5 

5 és 0 i 5
5 és 1 i 4
5 és 2 i 3
5 és 3 i 2
5 és 4 i 1
5 és 5 i 0

$4 = \square + \square$	$5 = \square + \square$
$4 = \square + \square$	$5 = \square + \square$
$4 = \square + \square$	$5 = \square + \square$
$4 = \square + \square$	$5 = \square + \square$
$4 = \square + \square$	$5 = \square + \square$
	$5 = \square + \square$



Càlcul mental

$0 + 1$

$1 + 1$

$2 + 1$

$3 + 1$

$4 + 1$



- ✓ 1 L'Eva té 3 corones i l'Ali 2. Quantes en tenen en total?



$$\boxed{3} + \boxed{2} = \boxed{}$$

I si l'Eva té 2 corones i l'Ali en té 3?



$$\boxed{} + \boxed{} = \boxed{}$$

- 2 En Pau té 1 gorra i la Neus 3. Quantes en tenen en total?



$$\boxed{} + \boxed{} = \boxed{}$$

I si en Pau té 3 gorres i la Neus en té 1?



$$\boxed{} + \boxed{} = \boxed{}$$

Si canvio d'ordre els nombres que sumo:

- el total és el mateix.
- el total no és el mateix.

Quina sorpresa!





En veu alta

3 Observa i contesta.



Quants gots més necessiten?



Quants plats més necessiten?



Quantes culleres més necessiten?



Quants tovallons més necessiten?

Interpretació compartida

Zona raona

Qui s'ha equivocat d'autobús? Encercla'ls.



BARCANOVA EDITORIAL

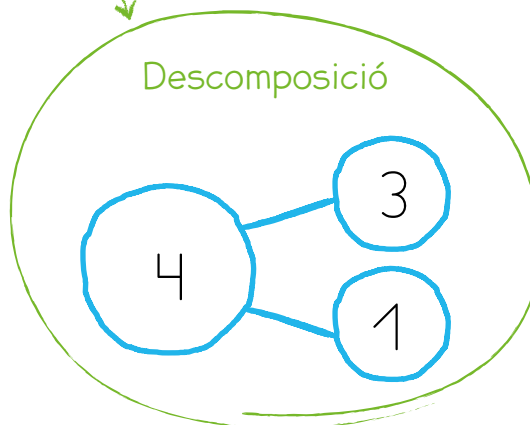
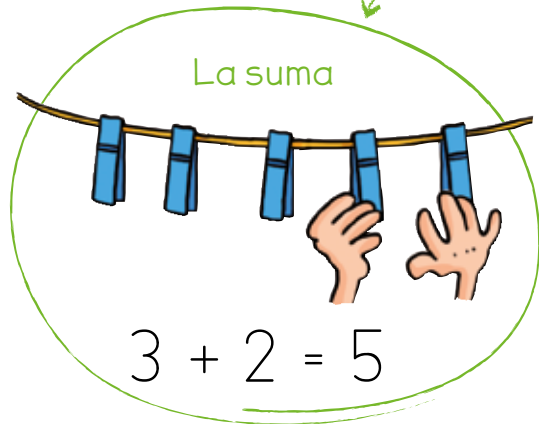


Organitzo la ment

Observa i aprèn.



Els nombres



Col·lecciono paraules

 Inventa una història utilitzant aquestes paraules.

més



igual



Què he après

1 L'Arlet és al davant de la Pepa. Qui hi ha darrere l'Arlet? Encercla-la.



PEPA



ARLET



MAR

2 Quin nombre hi falta? Escribeu-lo.



3 Suma.

$0 + 1 = \square$ $2 + 2 = \square$ $5 + 0 = \square$

$4 + 1 = \square$ $3 + 2 = \square$ $1 + 3 = \square$




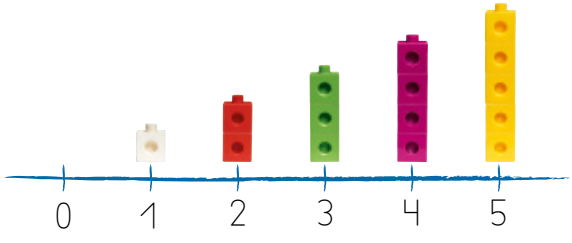





4 Completa.





Com ho he après

DOSSIER D'APRENTATGE 1

1 Ho has trobat fàcil o difícil? Encercla-ho.

	 
	 
 $3 + 2 = 5$	 

2 Et sents bé quan... Senyala-ho.



Descobreix i comparteix en família.

